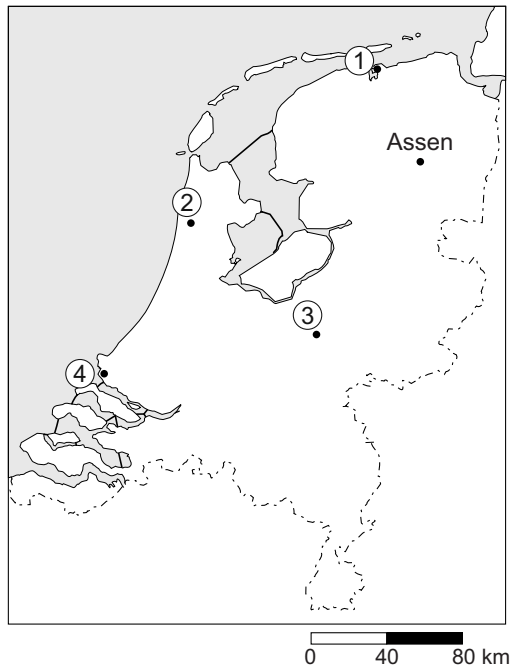


De Nederlanders en hun vakantiebestemmingen

bron 1

Kaart van Nederland



Karline, José en Petra hebben voor de zomervakantie een camper gehuurd. Hiermee willen ze vier dagen door Nederland reizen. Tijdens de vier dagen willen ze veel verschillende dingen doen.

Ze willen starten vanuit hun woonplaats Assen.

Hun reisprogramma ziet er als volgt uit:

Dag 1: wadlopen bij Lauwersoog

Dag 2: bezoeken van de kaasmarkt in Alkmaar

Dag 3: windsurfen aan het strand bij Hoek van Holland

Dag 4: wandelen in Nationaal Park de Hoge Veluwe en daarna naar huis

1p 1 Welke route hebben Karline, José en Petra gevolgd?

	dag 1	dag 2	dag 3	dag 4
A	naar 1	naar 2	naar 3	naar 4
B	naar 1	naar 2	naar 4	naar 3
C	naar 1	naar 3	naar 4	naar 2
D	naar 2	naar 1	naar 4	naar 3
E	naar 4	naar 2	naar 1	naar 3
F	naar 4	naar 3	naar 2	naar 1

2p 2 Karline, José en Petra doen ieder een uitspraak over bron 1.
Karline zegt: “De afstand van plaats 2 naar plaats 4 is minstens 70 kilometer.”
José zegt: “De afstand die Karline noemt is de relatieve afstand.”
Petra zegt: “Eén centimeter op de kaart is in werkelijkheid 2,5 kilometer.”
→ Neem de namen Karline, José en Petra over op het antwoordblad en zet erachter of hun uitspraak juist of onjuist is.

bron 2

Het Grote Strand van Hoek van Holland

Aan het strand van Hoek van Holland staan aan de zuidkant veel strandpaviljoens en enkele restaurants. Hier kunt u op het fantastische strand zonnebaden en zwemmen in zee. De meeste paviljoens aan het Grote Strand zijn in de zomer elke dag open en in de winter enkele dagen per week gesloten. In de winter kunt u dus in het weekend na een paar uur uitwaaien op een verwarmd terras warme chocolademelk, of iets sterkers drinken.

Fietsen en wandelen langs het strand en door de duinen

Het strand van Hoek van Holland is geschikt voor een weekendje uitwaaien. Vanaf het brede strand heeft u een prachtig uitzicht op de grote zeeschepen die naar de haven van Rotterdam varen. Ook de imposante veerboten naar Engeland passeren hier rakelings de kust. Bij het sportstrand kunt u kijken naar de surfers. Door de duinen lopen vrij toegankelijke wandelpaden en uitstekende fietspaden. Over het strand kunt u naar de dorpen 's-Gravenzande en Monster lopen. Per fiets kunt u van Hoek van Holland naar Kijkduin (zo'n 15 km) en Scheveningen.



- 1p 3 Karline, José en Petra lezen de informatie uit bron 2. Foldermateriaal en websites, zoals bron 2, geven vaak ook subjectieve informatie over een gebied.

→ Geef een voorbeeld van subjectieve informatie uit bron 2.

bron 3
Off-piste skiën

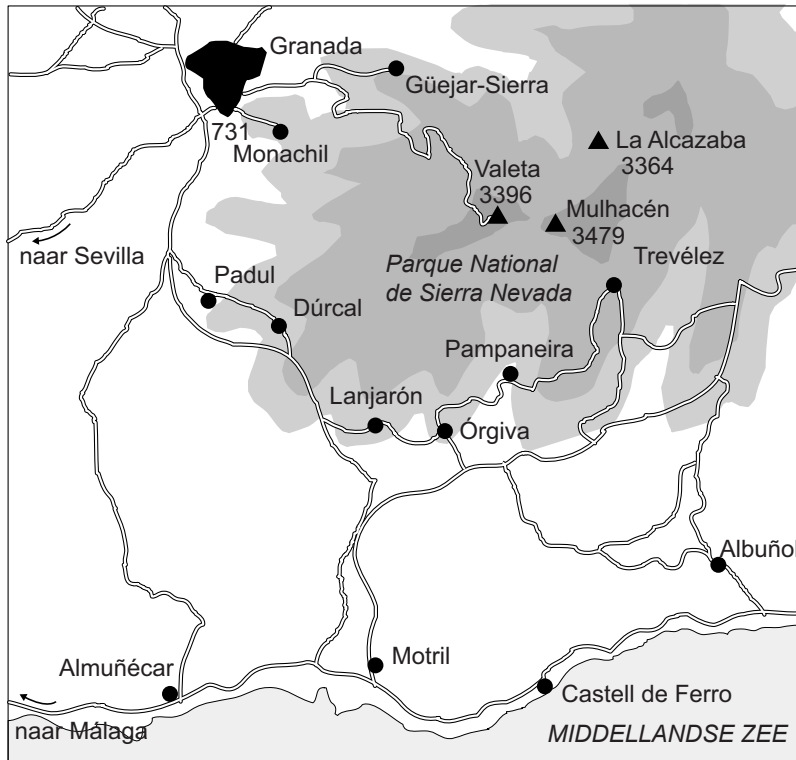


- 1p 4 De laatste jaren zie je dat steeds meer ervaren skiërs en waaghalzen buiten de officiële pistes gaan skiën. Dit kan gevaarlijk zijn en ook nadelige gevolgen voor natuur en milieu hebben.
→ Noem een nadelig gevolg voor natuur en milieu van off-piste skiën.





bron 4

Kaart van een deel van Spanje

Sierra Nevada



Legenda:

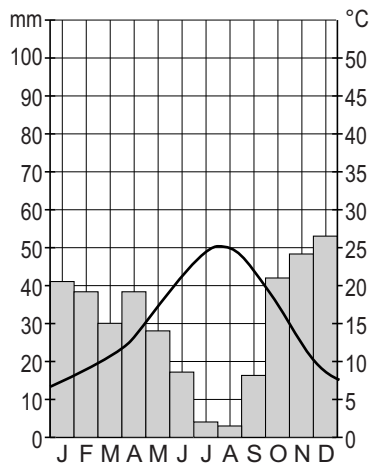
-  500 - 1000 m
-  1000 - 2000 m
-  3000 - 5000 m
- 3396 hoogteligging
-  bergtop

0 7 14 km

- 2p 5 Anoenk, Luuk en Tafik gaan op zoek naar een geschikte bestemming voor een skivakantie. Ze willen de skivakantie combineren met andere vakantieactiviteiten. Over bron 4 doen ze ieder een bewering. Volgens Anoenk behoort een bezoek aan de Sierra Nevada tot een verre vakantie. Volgens Luuk grenst de Sierra Nevada aan de Costa Brava. Volgens Tafik is de historische stad Granada bekend om haar culturele bezienswaardigheden.
- Neem de namen Anoenk, Luuk en Tafik over op het antwoordblad en zet erachter of hun bewering juist of onjuist is.

bron 5

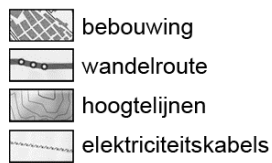
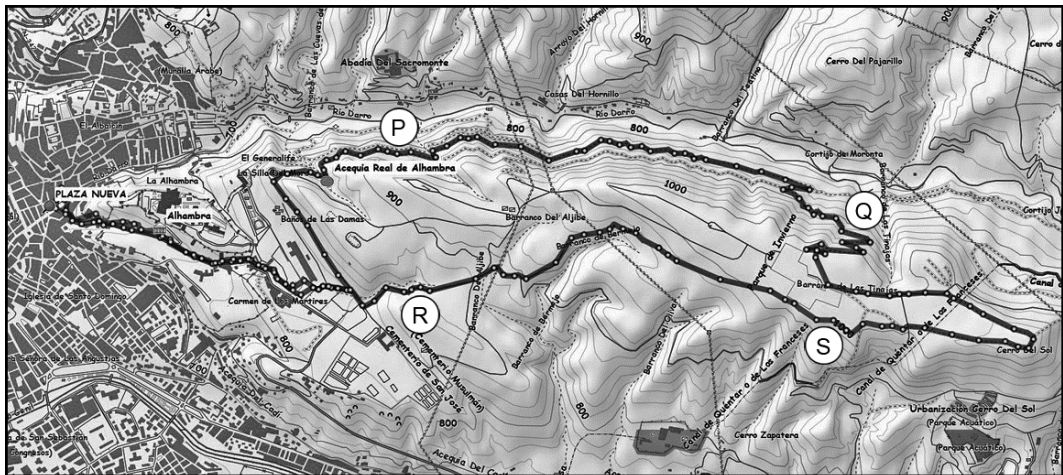
Klimaatgrafiek Granada



- 1p 6 Tijdens hun zoektocht naar een geschikte vakantiebestemming in de Sierra Nevada zien Anoenk, Luuk en Tafik een klimaatgrafiek van de nabij gelegen stad Granada (bron 5).
Om er zeker van te zijn dat er sneeuw ligt in december in de Sierra Nevada bestuderen ze de klimaatgrafiek uit bron 5 en de kaart uit bron 4. Ondanks het feit dat de temperatuur in de klimaatgrafiek van Granada in december boven de nul graden ligt, gaan Anoenk, Luuk en Tafik ervan uit dat er zeker sneeuw ligt op de Sierra Nevada.
→ Geef met behulp van bron 4 de reden waarom in december de sneeuwzekerheid in de Sierra Nevada erg groot is.

bron 6

Wandelroute rond Granada



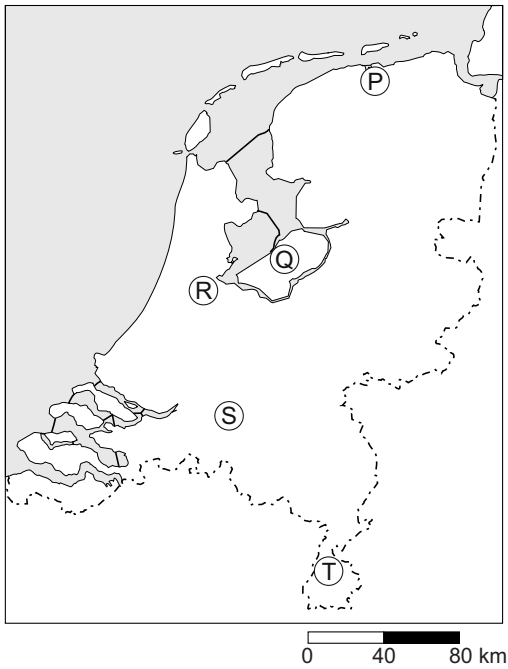
- 1p 7 Anoen, Luuk en Tafik gaan vanuit Granada de wandeling van bron 6 maken. De wandeling heeft weinig hoogteverschil, maar op één plek moeten ze wel veel hoogteverschil overwinnen.

Waar op de wandelroute van bron 6 is het hoogteverschil het grootst?

- A bij P
- B bij Q
- C bij R
- D bij S

bron 7

Kaart van Nederland



1p 8

Bekijk bron 7.

De Efteling in Kaatsheuvel is al jarenlang een populaire bestemming voor dagrecreatie. Sinds er ook een hotel en bungalowpark zijn aangelegd, is het ook een populaire bestemming voor weekendjes weg.

Bij welke letter op de kaart in bron 7 ligt de Efteling?

- A bij P
- B bij Q
- C bij R
- D bij S
- E bij T

bron 8

Tarieven Eftelinghotel in twee weekenden

Weekendarrangement 1	Weekendarrangement 2
Uw arrangement Hotel - Fifties Suite inclusief ontbijt & onbeperkt entree tot het Efteling Park gedurende het verblijf 5 juni tot en met 6 juni 2013 2 volwassenen 2 kinderen 4-12 jaar Totaalprijs arrangement: € 348	Uw arrangement Hotel - Fifties Suite inclusief ontbijt & onbeperkt entree tot het Efteling Park gedurende het verblijf 1 augustus tot en met 2 augustus 2013 2 volwassenen 2 kinderen 4-12 jaar Totaalprijs arrangement: € 395

- 1p 9 Bekijk bron 8.
Er is een prijsverschil tussen de weekendarrangementen 1 en 2.
→ Geef een reden voor de hogere prijs van weekendarrangement 2.

bron 9

Protest tegen uitbreiding Efteling, 2003



- 1p 10 Bekijk bron 9.
De Efteling heeft een aantal jaren geleden veel protest gekregen toen zij een deel van het bos wilde kappen om daar een uitbreiding van het park te realiseren.
Welke belangen staan hier tegenover elkaar?
A de belangen van cultuur en economie
B de belangen van cultuur en natuur
C de belangen van economie en natuur
D de belangen van politiek en cultuur

bron 10

Toeristische attracties in Turkije

Romeinse ruïnes bij Efeze



Hagia Sofia moskee



Grotwoningen in Cappadocië



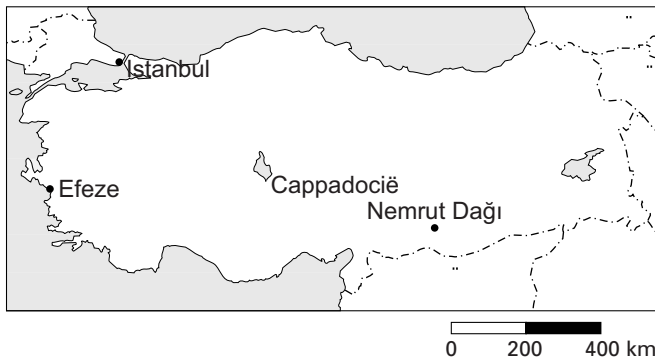
Reusachtige beelden op de berg Nemrut Dağı



- 1p 11 Turkije wordt steeds populairder als vakantiebestemming. Wat is Turkije voor soort bestemming volgens bron 10?
- A een avontuurlijke bestemming
 - B een culturele bestemming
 - C een natuurbestemming
 - D een zonbestemming

bron 11

Kaart van Turkije met toeristische attracties



bron 12

Advertentie culturele rondreis per bus door Turkije



Rondreis Klassiek Turkije

Turkije / Rondreis Turkije / Vertrekplaats: Istanbul

Boek nu deze absolute topper tegen bodemprijzen! Tijdens deze 12-daagse **rondreis** door **Turkije** maakt u kennis met de beroemde overblijfselen uit de Turkse oudheid. Hoogtepunten zijn o.a. Troje, **Efeze**, Pamukkale en **Cappadocië**. Uiteraard ontbreekt ook het sprookjesachtige **Istanbul** niet!

1p 12 Bekijk bron 10, 11 en 12.

Nemrut Dağı is bijzonder vanwege de enorme beelden die op de berg geplaatst zijn. Een bezoek aan de berg zou dan ook perfect passen in een rondreis door Turkije.

→ Geef met behulp van bron 11 een argument waarom veel touroperators dit indrukwekkende monument toch niet opnemen in het programma van hun rondreis door Turkije.

bron 13

De vakantievoetafdruk

Steeds meer mensen houden bij de keuze van hun vakantie rekening met het milieu. Er is een methode ontwikkeld om inzicht te krijgen in de milieuschade die een bepaalde vakantie aanbrengt. Dit wordt de vakantievoetafdruk genoemd. Hoe groter de voetafdruk van een vakantie is, hoe meer belastend deze vakantie is voor het milieu.

- 1p **13** Lees de tekst van bron 13.
De Nederlandse toerist die naar Turkije op vakantie gaat heeft gemiddeld een vakantievoetafdruk van ongeveer 407 m². De gemiddelde vakantievoetafdruk van Nederlanders is 250 m².
→ Geef een argument waarom de vakantievoetafdruk van een vakantie in Turkije relatief groot is.

bron 14

Reisadvies voor Egypte door het Ministerie van Buitenlandse Zaken

Reisadvies Egypte
Reizen naar bepaalde gebieden wordt afgeraden.

Laatst gewijzigd op: 10-01-2013. Nog steeds geldig op: 15-01-2013.

- 2p **14** In bron 14 zie je dat het Ministerie van Buitenlandse Zaken mensen afraadt om naar bepaalde gebieden in Egypte te gaan. Het komt wel vaker voor dat het ministerie voor een bepaald land of gebied een negatief reisadvies geeft.
→ Noem twee redenen voor het afgeven van een negatief reisadvies.
- 1p **15** Turkije en Egypte hebben als toeristische bestemming een aantal belangrijke overeenkomsten.
→ Geef een culturele overeenkomst tussen beide landen.

bron 15

Vakantiefoto's van Dick en Linda

foto 1




foto 2



foto 3



foto 4



- 1p 16 Bekijk bron 15.
Dick is afgelopen jaar naar Thailand op vakantie geweest en Linda is naar Egypte geweest.
→ Welke twee foto's heeft Linda in Egypte genomen?
- 1p 17 Nederlandse toeristen in Thailand en Egypte kiezen vaak voor hetzelfde type accommodatie.
Welk type accommodatie is voor Nederlandse toeristen in beide landen veruit het populairst?
- A bed & breakfast
 - B camping
 - C hotel
 - D vakantiehuisje

bron 16

Advertentie voor een skivakantie

Wintersport in Canada



Het vooroordeel dat skiën in Canada duur is, kunnen wij snel wegnemen. Zoals u zult ontdekken is de gemiddelde skivakantie, inclusief vlucht, transfer en accommodatie goedkoper dan veel skivakanties in Europa. Gecombineerd met de meters sneeuw die er vallen is dit het perfecte alternatief voor de drukke skivakantie in Oostenrijk of Frankrijk. Waarom tien uur in de auto zitten als je na tien uur vliegen ook in de Rocky Mountains kunt zitten? Canada is zeer sneeuwzeker en er staan geen rijen voor de lift.

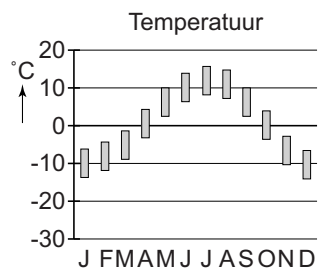
- 1p 18 Lees bron 16.
Sneeuwzekerheid is voor mensen die op wintersport gaan erg belangrijk.
→ Geef een argument waarom een milieubewuste Nederlandse wintersporter toch niet naar Canada op wintersport zal gaan.
- 1p 19 Er wordt in bron 16 gesproken over de afstand tussen Canada en Europa. Welke bewering over die afstand is juist?
- A Het betreft de absolute afstand, omdat het tien uur vliegen is naar Canada.
 - B Het betreft de absolute afstand; je weet namelijk precies hoe laat je aankomt in Canada.
 - C Het betreft de relatieve afstand; de afstand wordt gemeten in tijd, namelijk tien uur vliegen.
 - D Het betreft de relatieve afstand, omdat het vliegtuig in een rechte lijn vliegt.

bron 17

Vier temperatuurgrafieken

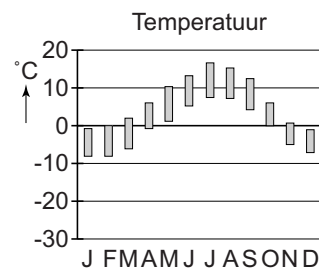
Anchorage

Gemiddelde maximum/minimum



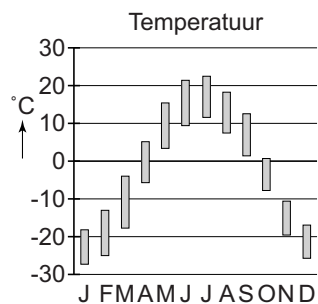
Homer

Gemiddelde maximum/minimum



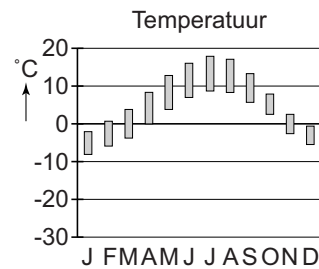
Fairbanks

Gemiddelde maximum/minimum



Juneau

Gemiddelde maximum/minimum



De grafieken geven een gemiddelde temperatuur, de hoogte van de streepjes bij de temperatuur geeft aan wat de gemiddelde minimum en maximum temperatuur is.

1p 20 Bekijk bron 17.

De organisatoren van een extreme survivaltocht zijn op zoek naar een plaats waar zij de koudste survival kunnen organiseren in Alaska. De survivaltocht staat gepland voor februari.

In de buurt van welke stad zullen zij de survivaltocht het beste kunnen organiseren?

- A Anchorage
- B Fairbanks
- C Homer
- D Juneau

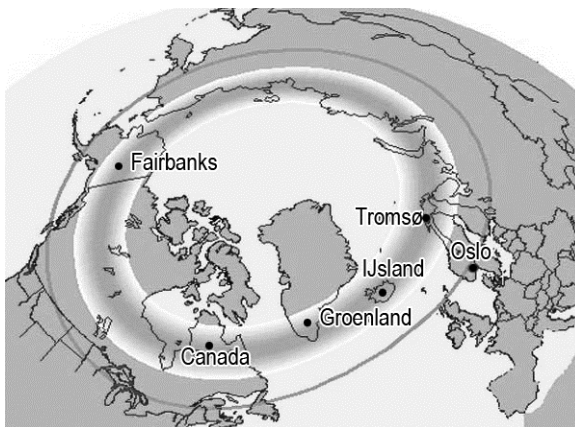
bron 18

Het noorderlicht in Fairbanks

Fairbanks is de grootste stad in het binnenland van Alaska. Vanuit Fairbanks zijn veel verschillende dagtochten mogelijk. Fairbanks wordt echter het meest bezocht vanwege de mogelijkheid om het adembenemende noorderlicht te zien. Het noorderlicht is in Fairbanks zichtbaar van december tot maart.

bron 19

Waarnemingsgebied van het noorderlicht



2p 21 Lees bron 18 en bekijk bron 19.

Een belangrijke attractie van Fairbanks is het noorderlicht. Dit is een spectaculair natuurfenomeen dat vooral zichtbaar is tussen december en maart.

- Geef eerst een reden waarom veel bezoekers liever op een ander moment naar Fairbanks zullen komen.
- Geef daarna, met behulp van bron 19, een argument waarom veel bezoekers uit Nederland niet snel voor Fairbanks zullen kiezen om het noorderlicht te bekijken.

bron 20

Ligging van Fairbanks



- 1p 22 Op de kaart in bron 20 is de stad Fairbanks in Alaska aangegeven. Wat zijn de geografische coördinaten van deze stad?
- A 71° NB, 26° OL
 - B 64° NB, 148° WL
 - C 16° ZB, 5° OL
 - D 54° ZB, 68° WL

bron 21

Mogelijke bestemmingen voor Carla



1p 23 Bekijk bron 21.

Carla wil na haar examens in juli een lange vakantie houden. Zij heeft flink gespaard en kan een verre reis betalen. Zij heeft een paar belangrijke eisen aan haar vakantie:

- 1 Er moet een redelijke kans op mooi weer zijn.
- 2 Zij wil naar een land uit het westerse cultuurgebied.
- 3 Omdat zij niet zo goed is in vreemde talen, wil zij dat er vooral Engels wordt gesproken.
- 4 Carla wil een bestemming die buiten Europa ligt.

Welke vakantiebestemming uit bron 21 voldoet aan de eisen van Carla?

- A bestemming P
- B bestemming Q
- C bestemming R
- D bestemming S
- E bestemming T

bron 22

Twee protesten tegen toerisme

foto P



Een protest op een strand in Mexico. Op de wc staat te lezen: "Een schoon strand nu!"

foto Q



Een protest van de lokale bevolking op de Bahama's tegen de bouw van een resort. Op één bord staat: "Dit land is van ons."

2p 24 Bekijk bron 22.

Jan komt op een website twee voorbeelden tegen van overlast door toerisme.

→ Neem op het antwoordblad de letters P en Q van de foto's uit bron 22 over en zet erachter welke soort overlast wordt bedoeld.

Kies uit:

- 1 aantasting van het leefgebied
- 2 milieuvervuiling
- 3 regionale inkomensongelijkheid
- 4 uitputting van natuurlijke hulpbronnen

Doe het zo:

Bij foto P hoort cijfer:

Bij foto Q hoort cijfer:

bron 23

Advertentie Riksja Travel



Verantwoord reizen met Riksja Travel

Duurzaam reizen bij Riksja Travel draait om mensen. Positieve ontmoetingen tussen mensen en culturen waarmee je je reiservaring verrijkt. Het leuke aan individueel reizen vinden wij: thuiskomen met een verhaal en het gevoel dat je echt tot de cultuur bent doorgedrongen. In de reiswereld is de definitie van duurzaam reizen rekening houden met de natuur, economie en cultuur van een land.

- 2p **25** Geschrokken van de negatieve effecten van sommige vormen van toerisme besluiten Jan en Sandra een duurzame vakantie te boeken. Ze zien de advertentie van bron 23. Deze organisatie biedt duurzame reizen aan. Er wordt niet alleen rekening gehouden met de cultuur, maar ook met de economie en de natuur.
- Neem de woorden economie en natuur over op het antwoordblad en geef bij deze twee begrippen aan door welke keuzes van de reisorganisatie de reis duurzamer kan worden.

Bronvermelding

Een opsomming van de in dit examen gebruikte bronnen, zoals teksten en afbeeldingen, is te vinden in het bij dit examen behorende correctievoorschrift, dat na afloop van het examen wordt gepubliceerd.